

**CONTROL FUNCIONES 2**

1.- Halla razonadamente el dominio de las siguientes funciones: (2,5 puntos)

a)  $f(x) = \frac{1}{\sqrt[3]{x^2 - 9}}$

b)  $g(x) = \ln(4 - x^2)$

c)  $h(x) = \sqrt{\frac{3+x}{2x-1}}$

2.- Dadas las funciones:  $f(x) = \sqrt{x-2}$  y  $g(x) = \frac{2x}{x-1}$

Halla:

a) fog, gof y sus dominios. (1,5 puntos)

b)  $f^{-1}$  y  $g^{-1}$  y sus dominios (1 punto)

3.- Representa gráficamente y halla el dominio y el recorrido de las funciones:

a)  $f(x) = |-x^2 + 6x - 5|$       b)  $g(x) = \begin{cases} \frac{2}{x-1} & \text{si } x \leq 2 \\ x+1 & \text{si } x > 2 \end{cases}$  (1,5 puntos cada una)

4.- Dadas las funciones  $f(x) = \left(\frac{1}{2}\right)^x$  y  $g(x) = \log_{\frac{1}{2}} x$  (2 puntos)

a) Escribe las características de cada una de ellas.

b) Representálas gráficamente en el mismo sistema de referencia.

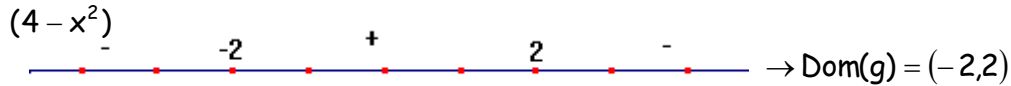
c) ¿Qué relación hay entre ellas?

**SOLUCIONES**

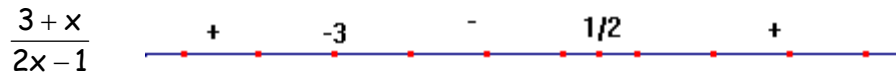
1.- a)  $f(x) = \frac{1}{\sqrt[3]{x^2 - 9}}$  la raíz cúbica no tiene problemas, sólo habrá problemas cuando se

anule el denominador  $\rightarrow x^2 - 9 = 0 \Rightarrow x = \pm 3 \rightarrow \text{Dom}(f) = \mathbb{R} - \{-3, 3\}$

b)  $g(x) = \ln(4 - x^2)$ , la función logarítmica tiene dominio  $(0, +\infty)$ , luego habrá que resolver la inecuación  $4 - x^2 > 0 \Rightarrow (2 - x)(2 + x) > 0$



c)  $h(x) = \sqrt{\frac{3+x}{2x-1}}$  tiene que cumplirse  $\frac{3+x}{2x-1} \geq 0 \rightarrow \begin{cases} 3+x=0 \Rightarrow x=-3 \\ 2x-1=0 \Rightarrow x=1/2 \end{cases}$



$\rightarrow \text{Dom}(h) = (-\infty, -3] \cup \left(\frac{1}{2}, +\infty\right)$

3.- a)  $f(x) = \sqrt{x-2}$  y  $g(x) = \frac{2x}{x-1}$

$(f \circ g)(x) = f(g(x)) = f\left(\frac{2x}{x-1}\right) = \sqrt{\frac{2x}{x-1} - 2} = \sqrt{\frac{2}{x-1}} \rightarrow \text{Dom}(f \circ g) = (1, +\infty)$

$(g \circ f)(x) = g(f(x)) = g(\sqrt{x-2}) = \frac{2\sqrt{x-2}}{\sqrt{x-2}-1} \rightarrow x-2 \geq 0 \Rightarrow x \geq 2$

$\sqrt{x-2}-1=0 \Rightarrow \sqrt{x-2}=1 \Rightarrow x-2=1 \Rightarrow x=3 \rightarrow \text{Dom}(g \circ f) = [2, 3) \cup (3, +\infty)$

b)  $f(x) = \sqrt{x-2} \rightarrow y = \sqrt{x-2} \rightarrow x = \sqrt{y-2} \rightarrow x^2 = y-2 \Rightarrow f^{-1}(x) = x^2 + 2$

$\rightarrow \text{Dom}(f^{-1}) = \mathbb{R}$

$g(x) = \frac{2x}{x-1} \rightarrow y = \frac{2x}{x-1} \rightarrow x = \frac{2y}{y-1} \rightarrow xy - x = 2y \rightarrow xy - 2y = x \rightarrow y(x-2) = x$

$y = \frac{x}{x-2} \rightarrow g^{-1}(x) = \frac{x}{x-2} \rightarrow \text{Dom}(g^{-1}) = \mathbb{R} - \{2\}$

3.- a)  $f(x) = \begin{cases} -x^2 + 6x - 5 & \text{si } x < 1 \\ x^2 - 6x + 5 & \text{si } 1 \leq x \leq 5 \\ -x^2 + 6x - 5 & \text{si } x > 5 \end{cases}$

$y = -x^2 + 6x - 5$  parábola, mira hacia abajo.

Vértice  $\rightarrow x = -\frac{6}{-2} = 3 \rightarrow V(3, 4)$

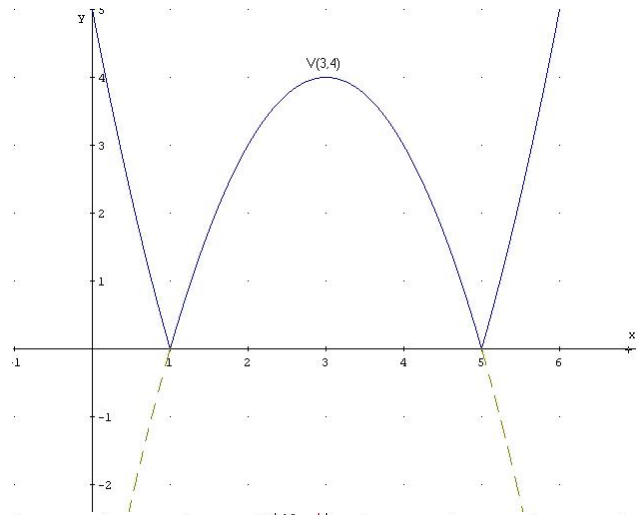
Corte ejes:

Eje OY  $\rightarrow (0, -5)$

Eje OX  $\rightarrow -x^2 + 6x - 5 = 0 \rightarrow x = \left\langle \frac{1}{5} \right\rangle$

$\text{Dom}(f) = \mathbb{R}$

$\text{Re } c(f) = [0, +\infty)$

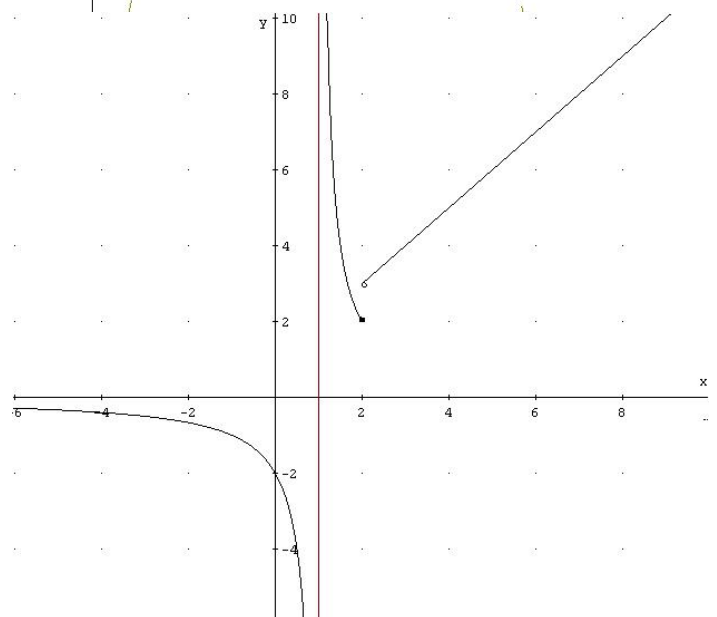


b)  $g(x) = \begin{cases} \frac{2}{x-1} & \text{si } x \leq 2 \\ x+1 & \text{si } x > 2 \end{cases}$  la gráfica

será un trozo de hipérbola, un segmento y una semirrecta, vamos a dibujarla: La hipérbola tiene la asíntota horizontal en el eje OX y la vertical en  $x = 1$ , para dibujar la semirrecta le damos un par de valores.

$\text{Dom}(g) = \mathbb{R} - \{1\}$

$\text{Re } c(g) = (-\infty, 0) \cup [2, +\infty)$



4.-  $f(x) = \left(\frac{1}{2}\right)^x$

$\text{Dom} = \mathbb{R}, \text{ Re } c = (0, +\infty)$

Pasa por  $(0,1)$  y  $\left(1, \frac{1}{2}\right)$

Es decreciente en su dominio  
Asíntota horizontal eje OX (dcha)

$g(x) = \log_{\frac{1}{2}} x$

$\text{Dom} = (0, +\infty) \text{ Re } c = \mathbb{R}$

Pasa por  $(1,0)$  y  $\left(\frac{1}{2}, 1\right)$

Es decreciente en su dominio  
Asíntota vertical eje OY

Las gráficas de ambas funciones están hechas en el libro de texto.

Estas funciones son INVERSAS o RECÍPROCAS.